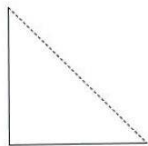



PROVA DI COMPETENZA CLASSE 2[^] - secondo quadrimestre

LEGGI ATTENTAMENTE OGNI QUESITO E SCEGLI LA RISPOSTA CHE TI SEMBRA PIÙ ADATTA, TRA QUELLE DATE.

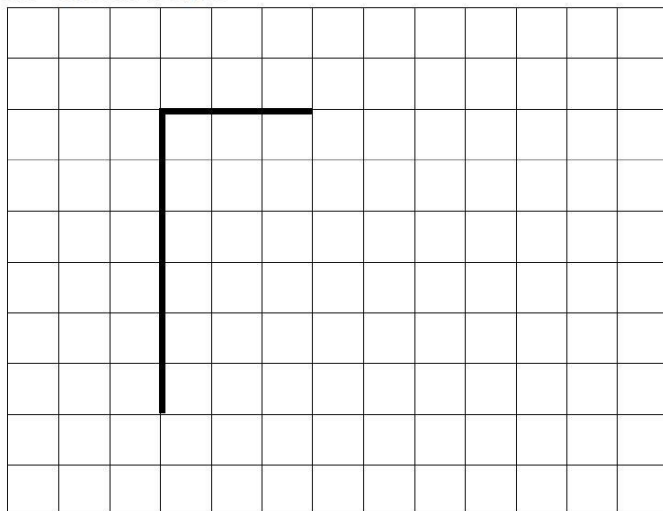
5. Elena ha preso un foglio e lo ha piegato in due seguendo la linea tratteggiata. Questo è ciò che ottiene:



Che forma aveva inizialmente il foglio che Elena ha piegato?

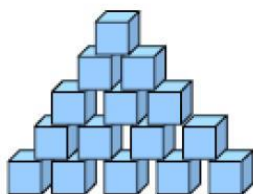


D7. Osserva il disegno.

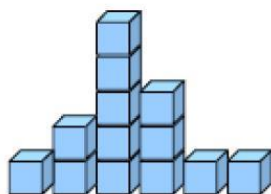


Completa il disegno in modo che la figura che ottieni sia un QUADRATO.

19. Giorgio e Mario fanno con dei cubetti di legno tutti uguali le costruzioni che vedi nel disegno.




Giorgio

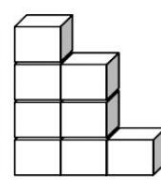
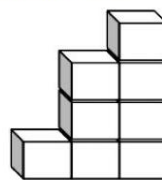
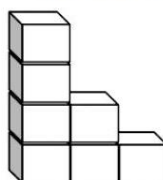


Mario

20. Carlo e Luisa giocano uno di fronte all'altro. Insieme hanno realizzato questa costruzione.



Come vede la costruzione Luisa?



A.

B.

C.


Poi ognuno costruisce una torre con i propri cubetti, mettendoli uno sopra l'altro. Chi fa la torre più alta?

A. Le due torri sono alte uguali

B. Giorgio

C. Mario

D7. Questo è un pezzo delle costruzioni in legno di Stefano.



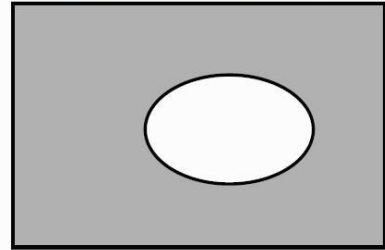
a. Quante facce ha in tutto?

- A. Due
- B. Quattro
- C. Cinque


b. Le facce sono

- A. triangoli e rettangoli
- B. tutte rettangoli
- C. tutte triangoli

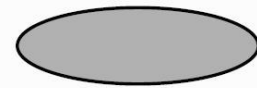
D21. Da un cartoncino grigio è stato ritagliato un pezzo.




Qual è il pezzo che è stato ritagliato?



A.



B.



C.

D16. Quale, tra queste figure, corrisponde alla seguente descrizione?

“È UN QUADRATO DENTRO UN CERCHIO”




Figura 1

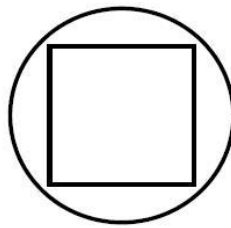


Figura 2

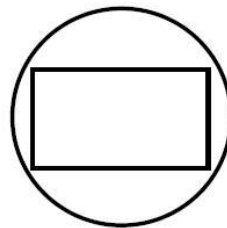
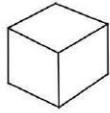


Figura 3

- A. Figura 1
- B. Figura 2
- C. Figura 3

D10. Questo è un cubo a sei facce:



Ora osserva queste figure.



Figura 1



Figura 2



Figura 3

a. Quale figura ha 4 facce triangolari?

- A. Figura 1
- B. Figura 2
- C. Figura 3

b. Quale figura ha cinque facce?

- A. Figura 1
- B. Figura 2
- C. Figura 3

D18. Da quale foglio "di forma rettangolare" è stato ritagliato questo pezzettino?

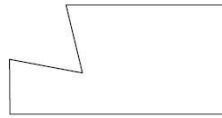


Figura 1




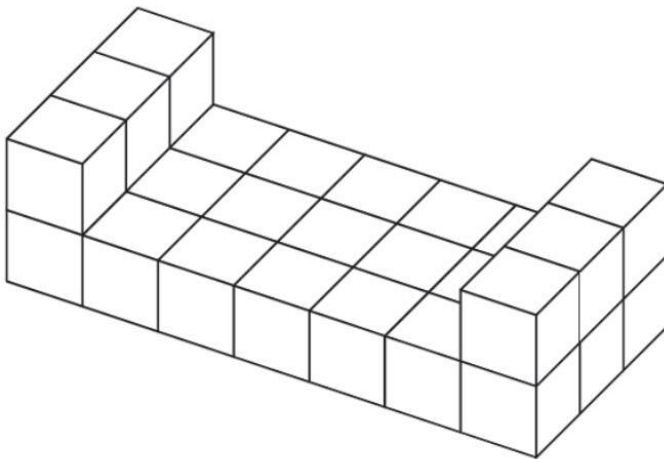
Figura 2



Figura 3

- A. Figura 1
- B. Figura 2
- C. Figura 3

D14. Di quanti cubetti è fatta questa costruzione?



- A. 23
- B. 25
- C. 27